


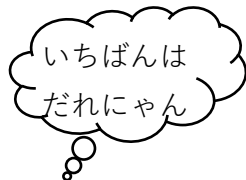










くみ なまえ

1 たまいれをしました。

		1かいめ	2かいめ	
くま くん				
ねこ にゃん				
ふく ちゃん				

① 1かいめと 2かいめにはいった かずを たすと なんこですか。

	しき		こたえ		こ
くま くん	<input type="text"/>		<input type="text"/>		
ねこ にゃん	<input type="text"/>		<input type="text"/>		
ふく ちゃん	<input type="text"/>		<input type="text"/>		

② 1かいめと 2かいめにはいった かずの ちがいは なんこですか。

	しき		こたえ		こ
くま くん	<input type="text"/>		<input type="text"/>		
ねこ にゃん	<input type="text"/>		<input type="text"/>		
ふく ちゃん	<input type="text"/>		<input type="text"/>		

2 つぎのけいさんをしましょう。

- | | | | |
|---|-----------|---|-----------|
| ① | $2 + 0 =$ | ④ | $4 - 0 =$ |
| ② | $6 + 0 =$ | ⑤ | $5 - 0 =$ |
| ③ | $8 + 0 =$ | ⑥ | $7 - 0 =$ |